

KISI2 PSIKOTES

3.TES PSIKOTEST

Selang 2 minggu Psikotes akan di adakan di Universitas MEDAN AREA Pancing,3 hari sebelum tes ini iting/nenek saya sakit dan tidak sadarkan diri,waktu itu iting saya janji kalau saya lulus saya di beri duit 500 ribu,kan lumayan kan men bisa bli rokok wkwkwk.berikut saya bagikan apa saya soal soal psikotestnya

a. ketelitian

ini adalah soal yg pertama ada banyak soal di buku yg di berikan psikolog kepada kami,soalnya yaitu menentukan apakah kata kata di kanan sama dengan kata kata dikiri cth rs.Muhammad

Yamin Drs.Mohammad yammin,kita tinggal melingkarin di kertas jawaban sama atau tidak,untuk soal di atas pastinyalah jawabannya tidak.

saran saya jangan kerjakannya berurut kerjakan saja yg kata katanya pendek jadi anda bisa mengerjakan banyak karna waktunya hanya 2 menit kesimpulannya kerjakan yang anda tahu dan kata katanya singkat dahulu karna soalnya ada 90.

b.Pertambahan,pengurangan,perkalian,pembagian

di sini anda nanti di suruh menambahkan,mengurangi,kali,bagi angka angka dan kemarin perintah dari psikolog lembar soal tidak boleh di coret,karna ada di berikan lagi lembar jawaban,kemarin saya curang saya mencoret lembar soal agar saya bisa cepat menjawabnya kan nulis angka angkanya lagi biar di kalikan kebawah di sele sele kan lama ane coret aja hihihihihhi,saran saya kerjakanlah yang gampang dahulu karna waktunya cuman 5 menit soalnya ada 100,dan pilihan berganda,dan tidak ada pengurangan nilai kalau waktunya di bilang tinggal 1 menit nah jawab aja asal asal soa; yg belum ke jawab mana tau kan beruntung hihihihihihhi

c.Tes WARTEG

di sini ada 8 kolom kosong dan gari garis .dan kita di suruh untuk menggambarkan apa yg ada di pikiran kita tentang gambar tersebut. Begini soalnya:

Soal ini mau tes psikotes di manapun sama nah saran saya kerjakan saja seprti ini ngejawabnya:

Kemarin untuk gambar yg ke 6 saya gambarkan logo PTKAI biar di kira pengujinya saya memang sangat berniat wkwkwkwkwk. Saran saya Urutan menggambar sebaiknya anda buat kombinasi antara sesuai nomor dan acak. Misalnya 1,2,3,4 kemudian 8,7,6,5. Karena apabila anda menggambar berdasarkan urutan 1,2,3,4,5,6,7,8 anda dipandang psikolog sebagai orang yang kaku/konservatif sedangkan apabila anda menggambar secara acak misalnya 5,7,6,8,3,2,4,1 anda akan dipandang psikolog sebagai orang yang terlalu kreatif, inovatif dan cenderung suka akan 'breaking the low'. Kalau anda bergender lelaki

jangan mulai dengan nomor 5, karena beberapa anggapan menyebutkan hal ini berpengaruh terhadap orientasi seks anda.waktu tes ini hanya 5 menit jadi hapal dari rumah dan usahakan cepat dan menggambar nya jangan ada di hapus dan penebalan garis lebih baik garis nya halus.

d.Menggambar Pohon

nanti kita di berikan kertas kosong dan di suruh menggambar POHON,begini soalnya “Gambarlah pohon”, kecuali : pohon cemara, kelapa, randu, kelompok palma, bamboo. Kemarin saya gambar pohon mangga,tips dan trick dari saya:

-Pohon harus di tengah kertas(

-Pohon harus lengkap harus ada batang,cabang, akar, daun, mahkota, buah dan lain-lain

-gambar pohonnya harus dominan ke daun

-batang harus besar dan semakin ke atas semakin ramping

-harus ada tanah

-dan di samping pohon kalau bisa tambahkan bunga di dalam pot biar

Berikut ini saya share pegangan saya sewaktu ingin tes psikotes AMMMMPUUUH

Buatente yang bingung dengan Psikotes menggambar pohon.

Seringkali kita mengikuti suatu psikotes dalam rangka tes kerja. Pohon apa yang kita gambar, tentumencerminkan bagaimana kepribadian kita.

Pohon anda terletak di mana pada bidang kertas?

* Di tengah

Anda praktis dan rendah hati. Sama seperti anda yang memilih di bagian tengah, anda juga menerapkan pendekatan jalan tengah. Anda menangani masalah-masalah dengan sikap mengharapkan yang terbaik dan membayangkan yang terburuk. Dengan cara ini anda siap dengan apapun yang terjadi.

* Di bagian bawah

Anda lebih suka melakukan riset terlebih dulu sebelum memutuskan apakah anda merasa yakin atau pesimistik akan sebuah solusi, ini disebabkan bagian bawah dari pertengahan halaman melambangkan pendekatan hidup yang membumi.

* Tinggi di atas

Anda melihat hikmah dari semua masalah. Semakin tinggi letak pohon anda menunjukkan sikap anda yang semakin tinggi dalam memandang hidup. Kendati pun hal-hal terjadi tidak seperti yang anda inginkan, anda memandangnya sebagai pengalaman pembelajaran.

Batang pohon seperti apa yang anda gambar?

* Lebar

Batang pohon melambangkan kekuatan emosional. Batang lebar berarti anda bisa tetap tenang dan tidak

mudah marah. Anda pusat ketenangan di tengah badai. Pendirian anda juga kuat.

* Ramping

Anda fleksibel dan terbuka dengan pandangan-pandangan atau pendapat orang lain. Anda juga sensitif dan banyak empati untuk masalah orang lain.

* Pohon bercabang di puncak

Anda terpecah di antara beberapa pilihan hidup saat ini

Berapa tinggi pohon anda?

* Lebih dari setengah tinggi kertas

Menggambar pohon lebih tinggi menunjukkan hasrat untuk mencapai prestasi yang tinggi dalam hidup. Anda juga dermawan dalam soal uang. Dan dalam bekerja anda seksama serta men cek ulang untuk memastikan anda bekerja dengan baik.

* Tinggi pohon kurang dari setengah tinggi kertas

Anda puas dengan hidup ini apa adanya. anda juga hemat dan sangat efisien.

Pohon anda terletak di mana?

* Di tanah

Anda mendambakan rasa aman dan stabilitas. Anda menyukai kehidupan keluarga dan lebih suka pekerjaan di mana anda bisa bertahan bertahun-tahun.

* Di pot

Anda sangat sibuk bekerja sepanjang waktu. Anda senang berpergian dan bertualang, serta mengenal orang-orang baru dan tempat-tempat baru.

* Di puncak gunung

Anda mendambakan perhatian dan senang menjadi pusat perhatian. Anda adalah entertainer alamiah dan komunikator ulung yang membuat orang tertarik pada anda.

* Melayang di awang-awang (tidak ada dasarnya)

Anda impulsif dan spontan. Anda sangat mudah menjadi senang jika sesuatu mengilhami anda.

* Di pulau

Anda memerlukan banyak waktu untuk menyendiri untuk mengisi ulang energi anda, juga membantu anda untuk menemukan solusi dari masalah anda

Apakah anda menggambar akar?

* Ya

Akar melambangkan keluarga dan sejarah, berarti masa lalu penting bagi anda. Anda menganggap itulah dasar dari siapa anda saat ini dan membantu anda memahami diri sendiri secara lebih baik anda menyukai tradisi keluarga, resep-resep yang diturunkan dari ibu, juga pusaka/peninggalan dari keluarga anda.

* Tidak

Anda fokus pda masa depan. Anda mandiri dan senang menciptakan tradisi-tradisi baru. Anda belajar lebih banyak tentang diri anda dengan merasakan situasi-situasi baru dan bertemu dengan orang-orang baru.

Apakah pohon anda lebih didominasi daun (bagian daun lebih dominan) ?

* Ya

Anda adalah pemikir yang dalam. Studi-studi menunjukkan daun melabangkan pemikiran. Orang-orang yang menggambar daun adalah orang yang selalu memikirkan apa saja. Selain membuat anda suka merenung dan introspeksi, sifat ini juga membuat anda mengambil keputusan dengan hati-hati. Karena anda cenderung melihat manfaat dari semua masalah.

* Tidak

Anda cenderung memandang dunia ini adalah hitam dan putih. Kurangnya daun berarti anda tidak mudah tergoyahkan dengan banyaknya warna abu-abu dari suatu masalah. Anda tidak membuang waktu memusingkan solusi dari sebuah masalah. Anda memilih sebuah rencana aksi dan bergerak ke depan.

Apakah anda menggambar yang lain selain pohon?

*Buah / kacang pada pohon

Yang membuat anda paling bahagia adalah melihat hasil pekerjaan yang dikerjakan dengan baik.

*Rumput di bawah

Anda punya rumah dimana para tamu mersa disambut baik dan keluarga anda betah tinggal disana, mebuat anda merasa paling damai.

*Ada bunga di bawah pohon

Anda paling bahagia jika dikelilingi kebahagiaan (orang-orang disekitar anda bahagia).

*Ada burung/hewan/ orang di sekitar pohon

Anda cinta pada keluarga dan teman-teman, dan itu adalah kebahagiaan terbesar anda.

*Ada ayunan di pohon

Anda paling bahagia jika meluangkan waktu untuk bersenang-senang.

e.Tes Koran

di sini terdiri dari beberapa angka pada lembaran dan kita di suruh menjumlahkan sebanyak banyaknya,saran saya dari

1.latih lah di rumah pada penjumlahan 1-9 download aplikasi tes koran di hp andorid anda

Cth, $8+8=16$ kita akan menjawab di ujung nya saja $6,4+7=$ seharusnya jawabannya 11 kita akan menjawab

$1,7+8=5$

2.nanti kita akan di berikan waktu 30 menit pada waktu 15 menit jawablah dengan santai sekali tapi tetap stabil jangan terburu buru,karna yg terpenting pada tes ini statistik kitaharus smakin lama waktu smakin banyak menjawab angka,15 menitnya lagi kerjakan dengan cepat dan pasti,usahakan jawaban juga harus benar

Kemarin saat tes saya kelewatan 2 kolom angka saay dilema pada saat itu memilih membiarkannya saja atau mengerjakannya ngebut padahal waktu saya sudah habis,nah pilihan saya pada waktu itu ialah menjawabnya,saat soal lagi di kumpulkan di oper saya kerjain itu semua dengan cepat wkwkkwkwkw

f.Soal tentang Dirimu

ini adalah soal terakhir pada saat psikotest.Di sini soalnya sebagai berikut “sebutkan 20 sikap tentang dirimu”,Saran saya

1.and a jawab 16 kebaikan dirimu yang berguna bagi perusahaan,cth:rajin,rapi,disiplin,dan 4 point lagi tentang keburukanmu TAPI tidak terlalu fatal dan bisa di perbaiki cth keburukan yg fatal:malas,dan saran saya anda harus menjawab keburukan yg seperti ini: susah tidur kalau pekerjaan belum selesai,kurang pasif berbahasa inggris,terlalu hemat,dll

Siapkan lah jawaban kamu lalu kerjakan dengan cepat.

Setelah siap mereka mengatakan bahwa pengumumannya 2 hari lagi tapi realita pada saat itu pengumumannya seminggu kemudian,

Selesai tes psikotest 2 hari kemudian nenek saya satu satunya tadi meninggal dunia,saya sangat terpukul dengan itu karna iting saya adalah orang yg paling saya sayangi,ada kata kata terakhir dari dia yaitu seminggu sebelum meninggal nenek saya berkata “kalo nanti aku udah ga ada saya di minta membawa photonya ke kuburan” pada saat itu saya ada kuliah makanya saya tidak bisa ikut ke kampung untuk mengikuti permintaan terakhir iting saya,dan sebelum meninggal iting saa sering meminta Mie daging haram pada saa tapi saya tidak pernah memberinya karna yah maklum anak kuliahan,tapi saya tak pernah berpikir ke situ.

Tes Matematika dan Logika Penalaran

Jika anda berhasil dalam tahapan sebelumnya, anda akan menjumpai ini, yaitu saatnya berpusing-pusing ria untuk mengerjakan berbagai macam soal-soal. Bisa saya simpulkan, inilah proses paling berat, karena memang disinilah BANYAK sekali peserta yang gugur dan tidak lolos.

Adapun soal yang keluar kurang lebih seperti ini :

a. Kraeplin/Pauli

Ini adalah jenis pertambahan angka yang berderet keatas sebanyak satu lembar kertas yang sangat lebar. Inti untuk penilaiannya supaya bisa mendapatkan hasil yang bagus adalah " grafiknya ". Semakin bagus grafiknya, kesempatan lulus anda akan semakin besar. Silahkan lihat gmabr dibawah, itu adalah bentuk soalnya nanti :

1	1	1	3	0	0	3	2	7	0	5	6	6	2	7	1	6	9	3	3	5	
9	0	7	6	7	1	3	5	8	9	6	3	3	1	6	4	8	0	0	9	1	9
7	1	0	4	0	2	3	0	7	5	4	8	7	1	9	6	7	2	1	0	3	0
4	4	4	4	1	8	7	5	0	1	6	4	2	4	6	7	1	7	3	7	4	2
0	8	7	3	3	9	0	8	3	4	0	3	3	1	3	7	8	4	5	1	5	6
8	8	9	9	7	7	4	3	0	4	0	9	7	9	7	1	3	0	6	2	4	4
4	9	4	1	7	0	5	4	7	8	4	1	5	7	8	3	8	3	7	4	6	
5	9	8	8	4	8	1	1	5	0	2	8	4	2	5	2	7	5	4	9	4	9
5	0	1	9	3	4	2	3	5	7	4	9	3	0	4	9	1	3	4	3	9	3
1	2	0	9	4	2	7	4	2	6	9	9	8	4	3	7	9	6	4	3	7	4
1	2	5	2	7	2	1	2	0	7	1	2	3	0	4	9	5	0	1	1	1	0
1	2	7	9	5	7	9	5	7	3	4	9	3	8	4	3	8	3	2	2	3	8
1	2	5	0	7	9	9	2	4	6	9	0	7	5	8	1	3	0	7	7	4	5
2	3	4	7	1	9	3	3	3	8	6	7	1	3	4	2	8	4	4	3	3	9
3	9	0	3	6	3	7	2	1	1	0	9	6	2	7	3	0	9	7	2	9	

Jika anda tidak tahu cara mengerjakanya, pada artikel bawah sudah saya berikan tutorialnya. Silahkan belajar.

b. Matematika Bentuk Cerita

Untuk yang ini, saya yakin anda semua sudah mengerti karena di sekolah pun bentuk seperti ini sangat sering keluar. Untuk supaya anda lebih jelas lagi, saya berikan contohnya :

" amir berkendara dari kota A ke kota B dengan jarak 50 km, jika amir berkendara dengan kecepatan 10km perjam, kemudian beristirahat selama 20 menit ditengah perjalanan, berapa jam amir akan sampai jika berangkat pukul 7 pagi? "

Bagaimana? sering menemuinya bukan? untuk bisa mendapatkan nilai yang bagus, trinya adalah sebagai berikut :

- Hafalkan rumus-rumus

- Hafalkan persamaan jarak (kilometer, meter, dll)
- Hafalkan persamaan berat (kilogram, gram, dll)

Semakin banyak rumus yang anda hafalkan, akan semakin membantu anda dalam mengerjakan soalnya.

c. Soal Bentuk Gambar (TIU 5)

Ada 2 jenis model gambar yang harus anda selesaikan, yaitu :

- Menggambar pohon

Cara mengerjakannya adalah : anda menggambar pohon berakar tunggang (pohon mangga, pohon rambutan, dll) dengan lengkap (terlihat buahnya, daunnya, batangnya, dan akarnya).

- Meneruskan gambar berpola

Akan ada beberapa kotak kalau tidak salah 8 kotak, dimana didalam kotak itu sudah terdapat " satu pola " entah itu titik, garis melengkung, garis miring, dsb. Tugas anda adalah meneruskan gambar tersebut menjadi gambar utuh (bebas).

Untuk bisa mendapatkan nilai bagus, silahkan anda gambar menjadi " BARANG KERJA ". Maksudnya barang kerja adalah barang-barang atau benda yang sering digunakan untuk bekerja, contohnya : palu, gergaji, cangkul, dll.

Kalau ada pola yang sangat susah dibuat gambar kerja, silahkan gambar saja sesuai dengan imajinasi (yang penting nyambung dengan pola yang sudah ada).

d. Psikologi Dasar

Ini adalah bentuk soal dimana bertujuan untuk melihat psikologis anda apakah dalam kondisi baik atau tidak. Anda akan dipersilahkan memilih jawaban antara (benar atau salah) saja. Untuk contohnya, kurang lebih seperti ini :

- Ketika saya menjumpai lampu merah di jalan, saya tetap meneruskan laju kendaraan.

jawabnya adalah : SALAH

Silahkan pilih jawaban tersebut.

CONTOH SOAL PSIKOTES MASUK PT. KERETA API

CONTOH SOAL TES PSIKOTES MASUK KERJA PT. KERETA API INDONESIA (PERSERO)

Tes psikotes adalah sebuah tes yang dirasa sukar oleh sebagian banyak orang apalagi pada tahapan tes ini minimal 50% dari jumlah peserta pasti GAGAL

Pada pembahasan artikel saat ini saya akan membahas kisi - kisi soal psikotes yang akan kalian hadapi saat menghadapi tes psikotes masuk PT. KERETA API INDONESIA.

berikut adalah kisi kisinya.

KISI - KISI SOAL MASUK PT. KERETA API INDONESIA PERSERO 90% KISI - KISI SOAL INI AKAN SAMA DENGAN SOAL YANG AKAN ANDA HADAPI UNTUK TES MASUK PT. KERETA API INDONESIA, NAMUN MUNGKIN AKAN ADA PERUBAHAN BENTUK SOALNYA SAJA, TAPI SECARA GARIS BESAR AKAN SAMA JENIS SOALNYA.

INILAH SOAL-SOAL PSIKOTES YANG 99% AKAN DIHADAPI DAN AKAN SAMA SETIAP TAHUNNYA !

1. Test WARTEG

2. Menggambar Pohon Berkambium

3. Angka Koran/Pauli / Kraepelin

4. TES IQ

Dalam tes ini kalian akan disuruh membaca sebuah teks cerita, setelah kalian membaca teks tersebut sesuai batas waktu yang diberikan, teks cerita tersebut akan dikumpulkan, lalu kalian akan diberikan kertas yang berisikan soal soal yang bersangkutan dengan teks cerita yang sudah kalian baca. Nah disini kalian di uji daya ingatnya atas apa yang sudah kalian baca tadi, seberapa banyak kalian mampu mengingat teks yang sudah kalian baca.

Versi kedua, kalian akan diberikan buku atau kertas yang berisikan kelompok nama nama tertentu, contohnya nama gunung, fujiyama, kelud,merapi,krakatau, nama bunga, lili,mawar,anggrek,tulip, nama kota, jakarta, bandung,surabaya,semarang, nah setelah kalian disuruh membaca teks tersebut, tiba tiba teks dikumpulkan kemudian kalian diberikan kertas soal, soal soal tersebut biasanya, contoh, termasuk kelompok manakah nama benda yang berawalan F. ?

Bunga, b. Gunung, c. Kota, d. Burung, e. Hewan Buas

Jadi intinya apapun yang kalian dapatkan baik itu teks, ataupun bacaan bacaan lain yang intruksinya kalian disuruh membaca, maka bacalah dengan seksama dan hapal lah semaksimal mungkin agar kalian bisa menghadapinya dengan baik.

5. Deret Angka

6. Aritmatika

7. Antonim

8. Sinonim

9. Jaring jaring bangun

10. Putaran / rotasi kubus

Jika kalian mampu menyelesaikan soal soal ini saja, 90% kalian lulus.

Soal Psikotes Penerimaan PT Industri Kereta Api(INKA) Persero tahun 2018 Lengkap dengan Jawaban Plus Tes Wawancara Kerja

[BUMN](#) [Contoh Soal Psikotes](#) [Soal Psikotes PT Industri Kereta Api\(INKA\)](#)



PT Industri Kereta Api(INKA) Persero merupakan perusahaan milik negara yang berperan penting di bidang transportasi kereta api baik itu untuk bagian penumpang, mengangkut barang, maupun mengangkut material tambang.

PT Industri Kereta Api(INKA) Persero sudah berdiri sejak tahun 18 Mei 1981 di Madiun Indonesia, perusahaan INKA juga merupakan Badan Usaha Milik Negara yang berperan penting bagi perindustrian kereta api di ASEAN.

PT Industri Kereta Api(INKA) Persero akan menyediakan lowongan pekerjaan tahun 2018 yang akan ditempatkan baik dibagian pegawai maupun di bagian pegawai bidang kantor, namun adapun persyaratan yang di tentukan adalah mengikuti berbagai test seperti Test Psikotes dan Test wawancara kerja.

Untuk itu kami memberikan soal-soal mirip yang mungkin akan keluar saat penyelenggaraan test psikotes dan test wawancara kerja nantinya.

Soal Psikotes Penerimaan PT Industri Kereta Api(INKA) Persero Lengkap dengan Jawaban Plus Tes Wawancara Kerja

#Soal Psikotes Sinonim

1.MEMO =

- a.Pesan
- b.Ingatan
- c.Informasi
- d.Catatan
- e.Ulasan

2.LAIK =

- a.Pintar
- b.Budiman
- c.Layak
- d.Buruk
- e.Semakin

#Soal Psikotes Lawan Kata (Antonim)

3.RAMALAN ><

- a.Proyeksi
- b.Pasti
- c.Penekanan
- d.Forecasting
- e.Fiksi

4.KENDALA ><

- a.Penghalang
- b.Hambatan
- c.Halangan
- d.Rintang
- e.Pendukung

#Soal Psikotes Korelasi Kata(Analogi Verbal)

5.FIKTIF : FAKTA || PERISTIWA :

- a.Dugaan
- b.Palsu
- c.Estimasi
- d.Dongeng
- e.Rekaan

6.JAM : WAKTU || TERMOMETER :

- a.Mendidih

- b.Panas
- c.Dingin
- d.Beku
- e.Suhu

#Soal Psikotes Padanan Kata(Similariti)

7.PRESIDEN

- a.Perdana menteri
- b.DPR
- c.MK
- d.MPR
- e.Menteri

8.SEMARANG

- a.Banjarmasin
- b.Surabaya
- c.Samarinda
- d.Palu
- e.Palangkaraya

#Soal Psikotes Pengelompokan Kata

9. a.Anak
b.Adik
c.Nenek
d.Keponakan
e.Menantu

10. a.Dipecah
b.Dipotong
c.Dipukul
d.Dibelah
e.Dibagi

#Soal Psikotes Pemahaman Wawancara

11.Pemakai sumber minyak bumi yang sangat besar untuk berbagai keperluan telah menguras sumber-sumber dunia. Hal itu menyebabkan persediaan minyak bumi dunia semakin lama semakin berkurang. Bila tidak ditemukan sumber energy lain sebagai sumber energy alternatif, dalam waktu yang tidak lama lagi dunia akan mengalami krisis energi. Memang sampai sekarang minyak bumi masi merupakan sumber energy utama berbagai keperluan kehidupan manusia, Terutama untuk berbagai macam industry

dan Transportasi.

Kesimpulan dari kutipan teks di atas adalah....

- a.Persediaan minyak bumi Dunia semakin berkurang
- b.Dunia mengalami krisis energy
- c.Pemakaian sumber minyak bumi sangat besar.
- d.Perlu sumber energy alternative dalam kehidupan.
- e. Minyak bumi bukan satu-satunya sumber energy utama.

12.Musik berirama dangdut banyak penggemarnya dewasa ini. Jenis music tersebut tidak hanya disenangi oleh masyarakat pedesaan, tetapi juga oleh masyarakat perkotaan. Oleh sebab itu, tidaklah berlebihan bila semua stasiun televisive yang ada di negeri ini memprogramkan paket khusus penayangan music berirama dangdut meskipun dengan jam tayang berbeda-beda. Banyak pengusaha rekaman yang memanfaatkannya.

Rangkuman yang tepat paragraph tersebut adalah...

- a.Musik dangdut digemari berbagai kalangan, sehingga diprogramkan semua stasiun TV
- b.Musik dangdut berkembang pesat berkat para pengusaha rekaman dan stasiun TV
- c.Kini penggemar music dangdut tidak hanya masyarakat pedesaan, tetapi juga masyarakat perkotaan.
- d.Masyarakat pada umumnya senang akan tayangan music dangdut karena music dangdut mudah dinikmati.
- e.Program khusus penayangan musik berirama dangdut

#Soal Psikotes Penalaran Logis

13.Premis umum:Semua ilmuwan Indonesia yang bergabung dalam BPPT sedang mengadakan penelitian untuk memperoleh energy alternatif.

Premis khusus:....

Kesimpulan: Pak Amir mengadakan penelitian untuk memperoleh energi alternative.

Premis khusus yang tepat untuk melengkapi silogisme di atas....

- a.Pak Amir, mengadakan penelitian kerana ia ilmuwan
- b.Pak Amir, memperoleh energi alternative kerana ia ilmuwan
- c.Pak Amir, Ilmuwan Indonesia yang bergabung dalam BPPT
- d.Pak Amir, Ilmuwan Indonesia memperoleh energi alternatif
- e.Pak Amir, Ilmuwan Indonesia, Sedang mengadakan penelitian.

14.Lampu neon 20 watt lebih terang dari pada bola lampu 20 watt. Lampu neon 20 watt buatan luar negeri lebih mahal dari pada lampu neon 20 watt buatan dalam negeri. Lampu yang lebih terang atau lebih tahan lama harganya lebih mahal.

Kesimpulan....

- a.Bola lampu 20 watt buata luar negeri lebih mahal dari pada bola lampu 1.000 watt
- b.Lampu neon buatan dalam negeri lebih murah dari pada bola lampu buatan luar negeri
- c.Lampu neon 20 watt buatan dalam negeri lebih tahan lama dari pada lampu neon 20 watt buatan luar negeri

- d.Lampu neon 20 watt lebih mahal dari pada bola lampu 20 watt
- e.Tidak ada kesimpulan yang benar.

#Soal Psikotes Penalaran Analitik

15.Ada tiga buah tombol dan tiga buah lampu. Lampu akan menyala jika tombol ditekan secara bersamaan. Lampu A menyala jika tombol 1 dan 3 di tekan. Lampu C menyala jika tombol 2 dan 3 di tekan. Jika tombol 1 ditekan, lampu A atau lampu B akan menyala. Tombol yang harus ditekan untuk menyalakan lampu B adalah...

- a.Tombol 1 dan 2
- b.Tombol 2
- c.Tombol 3
- d.Tombol 1
- e.Tombol 2 dan 3

16.Bayu harus mengikuti les matematika setiap akhir pekan. Sedangkan Andi harus les Fisika 2 kali seminggu setiap Selasa dan Kamis. Sementara Wandi harus mengikuti les biologi pada hari Senin dan Sabtu, sedangkan Manda harus kursus bahasa Inggris setiap hari Rabu. Siapakah yang pergi les pada hari yang sama setiap minggu?

- a.Bayu dan Andi
- b.Andi dan Wandi
- c.Andi dan Manda
- d.Bayu dan Manda
- e.Bayu dan Wandi

BACA JUGA

Soal Try Out Psikotes Gratis dan Jawaban

Soal Psikotes Bank (Untuk Semua Bank)

Cara Menjawab Soal Psikotes Matematika (Hitungan)

#Soal Psikotes Informasi Singkat

17.Yang dimaksud dengan atlas adalah...

- a.Gambar permukaan bumi sesuai dengan bentuk sesungguhnya
- b.Lukisan muka bumi di bidang datar dengan ukuran diperkecil
- c.Kumpulan gambar permukaan bumi dalam bentuk buku
- d.Lukisan bumi yang memuat unsure geografi tertentu
- e.Penunjuk arah berukuran besar dan lengkap

18.Marmer saat ini banyak digunakan sebagai bahan hiasan yang berharga mahal. Marmer termasuk ke

dalam batuan....

- a. Beku
- b. Sedimen
- c. Beku sela
- d. Metamorf

#Soal Psikotes Pengertian (Comprehension Test)

19. Contoh perilaku pengendalian diri dalam kehidupan sehari-hari adalah

- a. Melindungi seseorang yang lebih rendah dari kita.
- b. Menghormati orang yang lebih tua.
- c. Menjalin hubungan yang baik dengan tetangga.
- d. Menjaga keharmonisan hubungan antar teman.
- e. Menggunakan uang dengan sehemat mungkin

20. Contoh perbuatan yang dilandasi sikap jujur adalah....

- a. Menerima kenyataan dalam kehidupan setelah berusaha
- b. Waspada terhadap berbagai pengaruh baik dari dalam maupun dari luar.
- c. Mampu mengendalikan diri dalam suasana apapun.
- d. Tertib dan toleran dalam melaksanakan tugas kemasyarakatan.
- e. Menghargai hasil karya orang lain yang bermanfaat.

PEMBAHASAN

1. MEMO= PESAN; Perintah dari seseorang secara singkat, padat, dan jelas.

Jawaban:a

2. LAIK= Baik; LAYAK; Pantas; Patut.

Jawaban:c

3. RAMALAN adalah dugaan-dugaan yang tidak dapat dipastikan kebenarannya. Sesuatu yang dapat dipastikan adalah kepatian , bukan ramalan. RAMALAN lawan katanya PASTI

Jawaban:b

4. KENDALA= halangan; rintangan >< PENDUKUNG

Jawaban:e

5.FIKTIF lawannya FAKTA
PERISTIWA lawannya DONGENG

Jawaban:d

6.JAM alat untuk menunjukan WAKTU
TERMOMETER alat untuk menunjukan SUHU

Jawaban:e

7.PRESIDEN adalah kepala pemerintahan tertinggi, sama halnya dengan PERDANA MENTERI.

Jawaban:a

8.Semarang adalah ibukota provinsi yang berada di pulau jawa, demikian juga dengan SURABAYA.

Jawaban:b

9.MENANTU tidak mempunyai ikatan hubungan dara dengan semua yang lainnya.

Jawaban: e

10.Dibelah, dibagi, dipecah, dipotong, adalah satu tindakan yang menjadikan sesuatu hal menjadi beberapa bagian
Dipukul adalah suatu kegiatan yang hasilnya tidak mengubah jumlah sesuatu hal.

Jawaban:c

11.Kesimpulan adalah hasil daya nalar/ piker terhadap suatu masalah. Kesimpulan penggalan teks adalah pemakaian sumber minyak bumi sangat besar.

Jawaban: c

12.Rangkuman yang tepat paragraph tersebut adalah musik dangdut digemari berbagai kalangan, sehingga diprogramkan semua stasiun TV.

Jawaban:a

13.Silogisme merupakan proses berfikir yang bertolak dari satu arah atau lebih premis, yakni pernyataan-pernyataan yang mendahului, ditarik suatu kesimpulan menurut prinsip –prinsip logis berlawanan dan pendasaran yang mencukupi. Premis khusus yang tepat dalam silogisme tersebut adalah "Pak Amir, Ilmuwan Indonesia yang bergabung dalam BPPT".

Jawaban:c

14.PU: Lampu neon 20 watt lebih terang dari pada bola lampu 20 watt.

PK: Lampu neon 20 watt buatan luar negeri lebih mahal dari pada lampu neon 20 watt buatan dalam negeri.

PK: Lampu yang lebih terang atau lebih tahan lama harganya lebih mahal.

K: Lampu neon 20 watt lebih mahal dari pada bola lampu 20 watt.

Jawaban: d

15.HASil analisis: Tombol 1 bisa membuat lampu A atau lampu B menyala. Lampu menyala jika dua tombol ditekan bersamaan, jadi tombol 1 harus ditekan bersamaan satu tombol lainnya untuk menyalakan lampu B.

>Tombol 1 dan 3, lampu A menyala.

>Tombol 2 dan 3, lampu C menyala

> Tombol 1 dan 2 lampu B ,menyala.

Jawaban: b

16.Bayu mengikuti les matematika akhir pecan. Akhir pecan jatuh pada hari sabtu.

Wandi mengikuti les biologi pada hari senin dan sabtu

Jadi, yang pergi les pada hari yang sama adalah Bayu dan Wandu, yaitu pada hari Sabtu.

Jawaban:e

17.Atlas adalah kumpulan gambar permukaan bumi dalam bentuk buku.

Jawaban:c

18.Batu Marmer merupakan batuan malihan(metomorf) yang berasal dari batuan kapur.

Jawaban:d

19.Menggunakan uang dengan sehemat mungkin.

Jawaban:e

20.Menerima kenyataan dalam kehidupan setelah berusaha.

Jawaban:a

TES PSIKOTES PT KAI

TES PSIKOTES PT KAI



INFOSAKTI. Pada kesempatan kali ini saya akan menceritakan detail Tes Psikotes dalam PT KAI.

Tes Psikotes akan di laksanakan pagi, jadi sobat harus berangkat cepat dan jangan sampai terlambat datang ke lokasi tes jika kalian tidak mau di gugurkan karena terlambat. biasanya kalian akan di minta mengenakan kemeja putih dan bawa alat tulis buat ujian. jangan lupa bawa pensil HB ya sobat. berikut rinci tes pada waktu seleksi psikotes:

1. Kesamaa Kata

di bagian ini anda akan di minta untuk cek antara kata yang ada sebelah kanan dan kiri, apakah struktur sama atau berbeda. contoh jika sama kalian harus menjawab S jika beda B
contoh:

1. Aspergillus(S).....Aspergillus
2. Spanduk(**B**).....Spannduk

dari no 1 kita bisa melihat bahwa kata kanan dan kiri memiliki struktur tulisan yang sama. sedangkan no 2 memiliki struktur yang berbeda karena kata di sebelah kiri huruf d (double)

Pada Bagian ini soal yang di berikan cukup banyak. mustahil dengan waktu yang di berikan sobat bisa menjawab semua. saran penulis sobat harus menjawab cepat. jika waktu habis sisanya jawab aja asal karena tidak ada pengurangan nilai.

2. Perhitungan

Perhitungan yang dimaksud di sini adalah mengenai perhitungan dasar dan beberapa ada bentuk soal cerita. perhitungan dasar di sini adalah perhitungan dasar yang meliputi soal +-x: contoh
soal perhitungan dasar:

1. $52+35+26=$
2. $1000:2 \times 5=$

disini kalian akan di tuntut untuk kecepatan dalam berhitung. jika soal sukar segera lanjut ke nomor

berikutnya agar tidak buang-buang waktu. atau jawab asal saja karena tidak ada pengurangan nilai. selanjutnya soal dalam bentuk cerita. soal bentuk cerita matematika dalam tes kai biasanya dalam perhitungan yang mudah juga. hanya saja bagaimana kita cepat menghitung jawabannya saja. cari soal termudah atau jika ketemu soal sukar segera lewati atau jawab asal saja.

contoh soal: andi membeli pensil seharga 2000 rupiah. ia mendapat diskon 10%. berapa harga pensil yang harus ia bayar???

jawab : $2000 - (2000 \times 10\%)$
= $2000 - 200$
= 1800 Rupiah

3. Jaring-jaring bangun ruang

pada tahap ini sobat akan di berikan bentuk jaring-jaring bangun ruang ketika jaring-jaring di bentuk akan menghasilkan bangun ruang apa???

disini anda harus kuat daya khayal anda untuk membayangkan kan jaring-jaring itu akan menghasilkan bangun ruang apa. kerjakan dengan cepat pada tes ini, jangan terlalu lama berfikir karena akan membuang waktu.

4. Antonim dan Sinonim

pada tahap ini anda akan di sugukan 4 kata dan cari di antara 4 kata ini yang memiliki perbedaan sendiri ketimbang 3 kata yang lain. contoh:

a. melihat b. menatap c. memperhatikan d. membaca

dari ke empat kata ini yang berbeda adalah d. membaca karena ketiga kata yang lain memiliki arti yang sama.

5. Tes Wartegg


tes wartegg akan di berikan juga pada tes KAI. tes wartegg terdiri dari 8 kotak yang berisi garis atau titik. nah tugas kita adalah melanjutkan garis atau titik tersebut ke menjadi sebuah gambar.



contoh tes wartegg

Beberapa Tips dalam menjalankan tes wartegg:

1. Jaga kertas dalam keadaan bersih
2. Jika Anda seorang pria, jangan mulai dari nomor 5 karena jika Anda mulai dari nomor 5, berarti Anda memiliki kelainan seksual.
3. Mulai dari gambar yang paling mudah diselesaikan oleh Anda.
4. Penomoran gambar tidak terlalu urut (1,2,3,4,5,6,7,8), atau tidak begitu acak. Jika perintah terlalu urut, Anda berarti orang yang kaku, jika terlalu acak berarti Anda tidak dapat mengikuti aturan.
5. Untuk nomor baris (3,4,5,6) gambarlah benda mati dan bersifat maskulin.
6. Untuk nomor 1,2, 7,8 gambarlah makhluk hidup dan bentuk-bentuk menunjukkan sifat feminin.
7. Berikan nama untuk masing-masing gambar di bagian kertas yang kosong.



Penjelasan KOTAK Tes WARTEGG (Melengkapi Gambar)

Adapun setiap gambar setiap Kotak memiliki nilai yang berbeda - beda. Dari gambar tersebut dapat diketahui Karakter seseorang seperti Tekad, Kemauan, Kelincahan, Kemampuan Beradaptasi, Menyelesaikan masalah, kebijaksanaan dll. Sehingga dalam Mengerjakan Tes WARTEGG (Melengkapi Gambar) ini, anda harus bisa menyesuaikan gambar dengan Karakteristik yang pada umumnya di buru oleh perusahaan. Berikut Ini Adalah Penjelasan Masing-Masing Kotak :

- Kotak 1: Titik-titik hitam kecil menunjukkan kelincahan, pusat sentral Gambarlah makhluk hidup memiliki karakteristik, seperti serangga, laba-laba, kupu-kupu

- Kotak 2: Bentuk S terbalik menggambarkan kebebasan, menggelepar Gambarlah burung terbang.

- Kotak 3: Baris ketiga menunjukkan kemauan dan tekad untuk selalu memperbaiki diri. Gambarlah pagar, tangga, tiang listrik, dsb.

- Kotak 4: kotak hitam kecil di sudut kanan atas, menunjukkan konstruksi yang kuat Gambarlah bangunan, atau konstruksi beton, dll yang menunjukkan kekuatan.

- Kotak 5: Dua garis di sudut kiri bawah, menunjukkan bagaimana ketepatan pemecahan masalah Gambarlah objek yang kompleks, cepat, tepat, seperti balap motor atau mobil.

- Kotak 6: Dua garis membentuk segi empat Menunjukkan kesederhanaan tapi tetap menyuguhkan realitas. Gambarlah kamera, televisi, komputer.

- Kotak 7: Titik kurva Menunjukkan garis yang tidak dapat diproses secara sembarangan, harus diperlakukan dengan hati-hati. Contoh: ulat, ular.

- Kotak 8: Garis melengkung menunjukkan kebesaran, kebijaksanaan. Gambarlah makhluk hidup yang besar dan menunjukkan kewibawaan, seperti gajah.

6. Pohon

pada tahap ini anda akan di minta untuk membuat dan pohon pada sebuah kertas. Oke, kali ini kita kupas tentang bagaimana cara maupun langkah latihan anda dalam mengerjakan soal psikotes menggambar pohon dan berikut paparanya :

Mengerjakan Psikotes Menggambar Pohon Dengan Cepat dan Tanpa Ragu

Pertama, Ingatlah jenis pohon apa yang ada diingatan anda, familiar dan dianggap mudah untuk menggambarannya. Disarankan ketika anda mengerjakan Psikotes Menggambar Pohon, sebaiknya menggambar pohon ataupun tanaman yang memiliki daun banyak/ rindang, kayu atau ranting, buah, bunga hingga akar. Dalam hal ini anda pun bisa menggambar seperti pohon mangga, durian, jambu dan sebagainya. Menggambar pohon usahakan jangan terlalu tebal atau tipis. Usahakan pula menggambar dengan satu goresan saja. sebab hal ini akan menunjukkan bahwa Anda orang yang tidak ragu-ragu. Posisi atau letak pohon juga harus di tengah-tengah kertas ujian. Gambar juga harus diberi judul yang tepat sesuai dengan apa yang anda gambar.

Kedua, Untuk menggambar pohon dalam Psikotes Menggambar Pohon, gambarlah pohon dengan sempurna artinya bukan mesti bagus melainkan gambarkan semua elemen yang ada pada pohon tersebut. Mulai dari dahan, batang, ranting, daun, akar, serta buah seperti halnya pohon nangka, mangga, jambu atau lainnya. Biasanya ada instruksi "Dilarang" menggambar pohon cemara, pisang, kelapa, umbi-umbian dan beringin. Atau jangan gambar "Beringin" Bukan karena beringin itu mudah

digambar, tapi lebih karena sifat beringin sudah dianggap sangat ideal untuk seseorang. Jadi jika anda gambar beringin, anda hanya akan dianggap terlalu sempurna. Beri deskripsi nama pohon yang anda gambar serta deskripsikan pohon apa yang anda gambar.

Ketiga, Ketahuilah makna dari Psikotes Menggambar Pohon agar anda mengerjakannya sesuai dengan karakteristik yang dibutuhkan perusahaan. Tes ini dipergunakan untuk mengetahui tanggung jawab, kepercayaan diri, kestabilan dan ketahanan kerja. Gambar batang pohon yang cukup besar dan terkesan kuat, ini menggambarkan anda seorang yang kuat, dengan daun-daun lebat/rindang, artinya anda menaungi orang-orang di sekitar dan di bawah anda. Tinggi menjulang artinya anda adalah seorang pembelajar yang mempunyai cita-cita dan harapan. Akar yang kuat artinya anda juga punya pegangan hidup dan pendirian, serta buah yang menyimbolkan bahwa sukses apapun anda, anda tidak melupakan orang-orang di sekitar anda. Test ini termasuk dalam test Grafis. Catatan, bila anda tidak bisa menggambar, jangan khawatir karena yang dinilai bukan pandai tidaknya anda menggambar, melainkan besar-kecil gambar, tarikan garis (tegas atau tidak atau patah-patah), letak gambar (kanan-kiri, atas-bawah, atau center) biasanya Penguji juga bertanya yang digambar itu pohon apa gambar pohon? dan tiap-tiap gambar ada artinya pada Psikotes Menggambar Pohon.

7. tes hitung koran

1	1	1	3	0	0	3	2	7	0	5	6	6	2	7	1	6	9	3	3	5			
9	0	7	6	7	1	3	5	8	9	6	3	3	1	6	4	8	0	0	9	1	9		
7	6	0	4	0	2	3	0	7	3	4	8	7	1	9	6	7	2	1	0	3	0		
4	4	1	4	1	8	7	5	0	1	6	4	2	4	6	7	1	7	3	7	4	2		
0	7	3	3	9	0	8	3	4	0	3	3	1	3	7	8	4	5	1	5	6			
8	8	9	9	7	7	4	3	0	4	0	9	7	9	7	1	3	0	6	2	4	4		
4	9	2	4	1	7	0	5	4	7	8	4	1	5	7	8	3	8	3	7	4	6		
5	8	8	4	8	1	1	5	0	2	8	4	2	5	2	7	5	4	9	4	9			
5	0	1	9	3	4	2	3	5	7	4	9	3	0	4	9	1	3	4	3	9	3		
1	2	6	1	0	9	4	2	7	4	2	6	9	9	8	4	3	7	9	6	4	3	7	4
1	2	5	2	7	2	1	2	0	7	1	2	3	0	4	9	5	0	1	1	1	0		
1	2	7	9	5	7	9	5	7	3	4	9	3	8	4	3	8	3	2	2	3	8		
1	2	5	0	7	9	9	2	4	6	9	0	7	5	8	1	3	0	7	7	4	5		
2	3	4	7	1	9	3	3	3	8	6	7	1	3	4	2	8	4	4	3	3	9		
3	3	5	9	0	3	6	3	7	2	1	1	0	9	6	2	7	3	0	9	7	2	9	

Tes ini disajikan dengan angka yang berjejer dan mempunyai pola perhitungan yang berbeda di setiap kolom maupun barisnya. Pada dasarnya tes ini tidak menuntut kita untuk menyelesaikan semua lembar jawab secara tuntas. Tapi ini yang paling dilihat adalah ketelitian, ketahanan kerja, dan stabilitasnya. Adapun tujuan dari **Tes Hitung Koran** atau **Tes Pauli Kraepelin**, adalah :

1. Keuletan

Tujuan dari tes ini adalah untuk melihat keuletan seseorang dalam bekerja. Kemampuan seseorang dalam menyelesaikan masalah yang rumit dalam waktu yang cepat.

2. Kemauan

Tes ini menunjukkan tingkat kemauan seseorang dalam bekerja dan dalam menyelesaikan pekerjaan yang telah menjadi tanggung jawab orang tersebut.

3. Tingkat Emosi

Tes ini mengukur tingkat emosi seseorang. Mengukur kemampuan dalam mengendalikan emosi dalam kondisi kerja yang rumit.

4. Penyesuaian Diri

Tes ini bisa digunakan untuk mengukur kemampuan seseorang dalam menyesuaikan diri dalam lingkungan yang baru.

Tips Mengerjakan Tes Hitungan Koran atau Tes Pauli Kraepelin :

1. Berdoa

Hal yang paling utama dalam segala hal adalah berdoa. Berdoa akan bisa membantu kita lebih tenang dalam mengerjakan semuanya. Jangan lupa juga minta tolong doain sama orangtua biar tes nya lancar. 😊

2. Konsentrasi

Dalam mengerjakan tes ini kita harus benar-bener konsentrasi penuh. Berhubung tes ini sangat menguras pikiran dan energi, usahakan jangan sampai blank dalam mengerjakan tes ini. Tes ini merupakan tes yang mengisikan angka satuan hasil dari setiap penjumlahan antara 2 angka di setiap kolom. Ada yang dari bawah dan dari atas, tergantung dengan kebijakan perusahaan. Apabila hasil jumlah dari 2 angka itu lebih dari 2 digit, maka yang ditulis adalah digit terkahir. Misal $5+5 = 10$, maka yang ditulis adalah 0. Oleh karena itu, konsentrasi amat sangat dibutuhkan dalam mengerjakan tes ini agar tidak keliru.

3. Jumlah angka stabil

Usahakan jumlah angka dalam masing-masing kolom stabil. Berhubung mengerjakan soal ini diberi waktu yang sedikit. Jadi usahakan buat patokan jumlah angka yang harus dikerjakan, misalnya 12 perhitungan. Usahakan setiap kolom minimal 12 perhitungan agar tidak terjadi bentuk kurva yang zig-zag.

4. Cermat dan Teliti

Perhitungan dengan angka yang banyak kadang bikin kita kebingungan. Usahakan jangan sampai ada angka yang terlewat di setiap kolom.

5. Kenyamanan

Usahakan cari posisi yang paling nyaman pada saat mengerjakan. Ini biasa merupakan kebijakan dari tim yang mengetes kita. Tapi biasanya kita akan diberikan keleluasaan dalam memilih posisi yang nyaman dalam mengerjakan **Tes hitung atau tes kraepelin** ini.

6. Persiapan

Persiapan yang matang juga sangat dibutuhkan dalam setiap tes. Baik Tes hitung koran, [tes TPA](#), dan tes lainnya. Alat tulis jangan lupa untuk dipersiapkan dengan baik.

pada tes KAI waktu yang di berikan cukup lama. pastikan konsentrasi anda terjaga. dan di tengah-tengah kita menuis nanti ada aba-aba buat garis. maka kita harus menggaris angka tersebut.

oke mungkin ini bayangan tes psikotes pada tes PT KAI. semoga bermanfaat bagi sobat-sobat sekalian. selamat mencoba.. good luck

Contoh Soal Tes Psikologi BUMN Semen Gresik

[tipskerja](#) | 7:16 am | [Tips Tes Perusahaan Ternama](#) | [No Comments](#)




AWAS LOWONGAN PALSU!

Terkait dengan "Iklan Lowongan Kerja PT Semen Indonesia (Persero) Tbk" di Harian Kompas, Sabtu 21 Oktober 2017, Hal. 28, kami menghimbau masyarakat agar berhati-hati karena lowongan tersebut tidak benar (palsu).

PT Semen Indonesia (Persero) Tbk. dalam pengumuman rekrutmen dilakukan melalui website resmi perusahaan (www.semenindonesia.com)

Terima kasih.



Kali ini tipskerja akan membahas tentang contoh soal yang akan kamu temukan dalam tes psikologi disalah satu BUMN terbesar di Indonesia yaitu Semen Gresik. Mungkin ini adalah tes psikologi yang akan kamu temukan pada tes psikologi diperusahaan lain juga. Pada tes ini kamu akan menemukan soal mulai dari tes matematika, deret angka, persamaan kata, lawan kata, persamaan bentuk sebuah bidang, hafalan sebuah kata, dan pauli kreplin. Oke kita coba bahas satu satu ya.

1. Tes Matematika

Ini merupakan tes matematika dasar. Yang kamu butuhkan hanyalah kecepatan berfikir dengan menggunakan logikamu. Kerjakan soal yang kamu rasa paling mudah terlebih dahulu untuk menyingkat waktu. Berikut contoh tesnya.

“Biasanya untuk membangun 1 ruang bangunan akan dibutuhkan waktu 30 hari dengan menggunakan bantuan orang sebanyak 10 orang. Maka pertanyaannya adalah berapa hari 1 ruang bangunan akan selesai jika menggunakan 20 orang untuk mengerjakannya? “

Jawabannya :

$$30 \text{ hari} = 10 \text{ orang} \quad /// \quad x \text{ hari} = 20 \text{ orang}$$

$$30 \cdot 10 = x \cdot 20$$

$$300 = 20 x$$

$$X = 15$$

“Jadi untuk menyelesaikan 1 ruang bangunan menggunakan 20 pekerja adalah 15 hari”

2. Tes Deret Angka

Mungki kamu sudah pernah mengerjakan soal ini pada saat di bangku sekolah dan kuliah. Ini hanyalah mencari angka selanjutnya setelah beberapa angka sebelumnya. Mungkin hasil angkanya bisa ditemukan dengan menambah, mengurangi, mengkalikannya bahkan juga dengan pembagian. Berikut contoh tesnya.

“10 20 30 40 50” jawabanya adalah 60 dan 70 dengan menambahkan 10 setelahnya

“144 144 48 12” Jawabannya adalah 2,4 dan 0,4 dengan membangnya awal dibagi 1, angka kedua dibagi 2, angka ketiga dibagi 3, angka keempat dibagi 4, dan seterusnya.

Tetapi ingat jangan terjebak dengan angka angka yang hasilnya didapat dengan 1 kali perkalian atau pembagian. Bisa juga hasilnya merupakan kombinasi dari penjumlahan perkalian, atau pembagian pengurangan.

Jika waktumu sudah sedikit dan kamu tidak menemukan cara untuk mendapatkan hasilnya kamu bisa menggunakan intuisimu dengan melihat jawaban yang ada dipilihan ganda pertanyaan dengan sedikit mengira ngira hasil yang mendekati dengan angka angka sebelumnya. Dan jangan terpaku dengan 1 soal saja.

3. *Persamaan Kata dan Lawan Kata*

Tes ini juga bisa mengecohmu pada saat tes nanti, dikarenakan banyak contoh kata yang jarang kita dengar dan gunakan dalam percakapan sehari hari dan biasanya menggunakan bahasa baku dalam soal ini. Tips dari kita adalah coba belajar bahasa baku dari kamus bahasa indonesia yang baik dan benar. Karena kamu juga akan menemukan bahasa yang sama dan benar tetapi salah dikarenakan kata tersebut bukanlah kata baku.

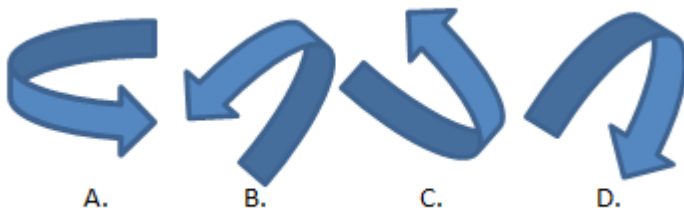
Contohnya adalah Kata “Rabat”. Menurutmu itu merupakan arti dari apa? Rabat merupakan potongan harga atau diskon dalam arti bahasa baku dalam kamus bahasa indonesia.

Akan ada banyak kata jebakan yang kamu sendiri tidak mengetahui kata kata itu sendiri maknanya seperti apa.

-

4. *Ujian Kemampuan Spasial*

Contohnya dari gambar dibawah ini mana yang tidak sama dengan gambar yang lainnya?



Tipsnya adalah cepat dalam berfikir dan jangan ragu untuk menjawab dengan cepat. Semakin kamu ragu kamu akan semakin lama dalam berfikir padahal jawabanmu adalah jawaban yang benar.

-

5. *Tes memori*

Tes hafalan kali ini kamu akan mendapatkan contoh soal cerita dan beberapa kata yang harus kamu hafalkan dalam beberapa menit sesuai dengan intruksi dari tim HRD.

Tipsnya adalah kamu harus menemukan kata kata penting dalam kata tersebut. Seperti nama, kegiatan yang dia lakukan, tempat, waktu, warna, dan hari. Rangkailah kata kata tersebut dan ubahlah menjadi lagu untuk mengingatnya secara cepat.

-

6. Tes Pauli dan Kreplin

Pada dasarnya tes ini adalah tes matematika dasar. Kamu hanya harus menjumlahkan tiap angka dan menuliskannya di tengah tengah angka tersebut sebagai jawabannya.

1	1	1	3	0	0	3	2	7	
9	0	7	6	7	1	3	5	8	9
7	6	0	4	0	2	3	0	7	5
4	1	4	4	1	8	7	5	0	1
0	4	7	3	3	9	0	8	3	4
8	8	9	9	7	7	4	3	0	4
4	2	9	4	1	7	0	5	4	7
5	9	8	8	4	8	1	1	5	0
5	0	1	9	3	4	2	3	5	7
1	6	0	9	4	2	7	4	2	6
1	2	5	2	7	2	1	2	0	7
1	2	7	9	5	7	9	5	7	3
1	2	5	0	7	9	9	2	4	6
2	3	4	7	1	9	3	3	3	8
3	5	9	0	3	6	3	7	2	1

Kunci dari tes ini adalah bagaimana kamu menghadapi situasi dan tekanan dalam bekerja. Apakah kamu orang yang stabil terhadap tekanan yang terus menerus atautkah mood kamu atau semangatmu akan naik turun sesuai dengan grafik yang kamu kerjakan.

Usahakan jangan memaksakan 1 deret kamu selesaikan dengan cepat tetapi usahakan untuk terus stabil dalam mengerjakannya. Jangan pedulikan peserta lain dan tetap fokus dengan lembar soalmu sendiri.